


# 达标测试卷

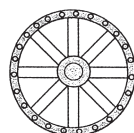
题号	一	二	三	四	五	六	七	八	九	十	十一	总分
得分												

一、下面哪幅图是小狗看到的？在 ☐ 里画“√”。（4 分）



二、聪聪和东东看水车。（4 分）

下面的图形分别是谁看到的？在相应图形下写上他们的名字。

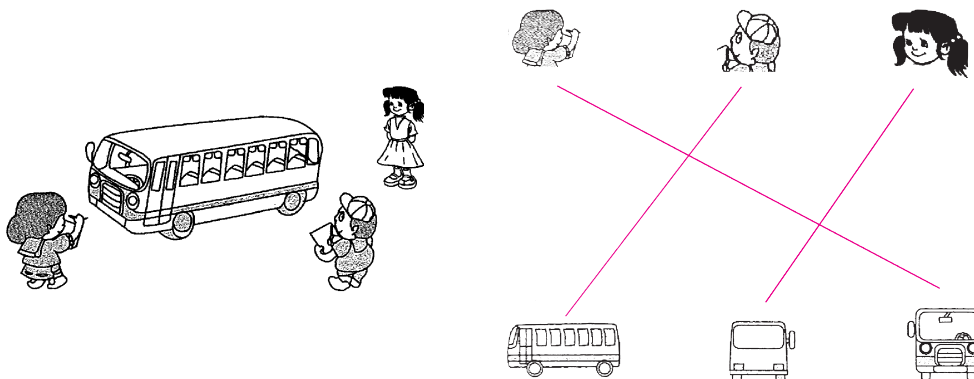


(聪聪)



(东东)

三、他们分别看到的是什么？连一连。（6 分）



四、他们分别看到了什么？把小朋友的名字写在相应的图下面。（18 分）

1.



(小红)



(小玲)



(小东)



(小刚)

2.




是( 小强 )看到的。



是( 小美 )看到的。

3.



( 小芳 )

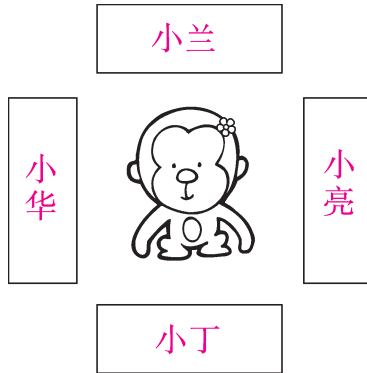


( 小丽 )



( 小明 )

五、根据他们的描述，在相应的位置写出他们的名字。（12 分）




小亮：“我看到猴子的一只耳朵、一条腿和它的尾巴，我还看到它头上戴着一朵花。”

小兰：“我看到猴子的脑袋、背部和它的尾巴。”

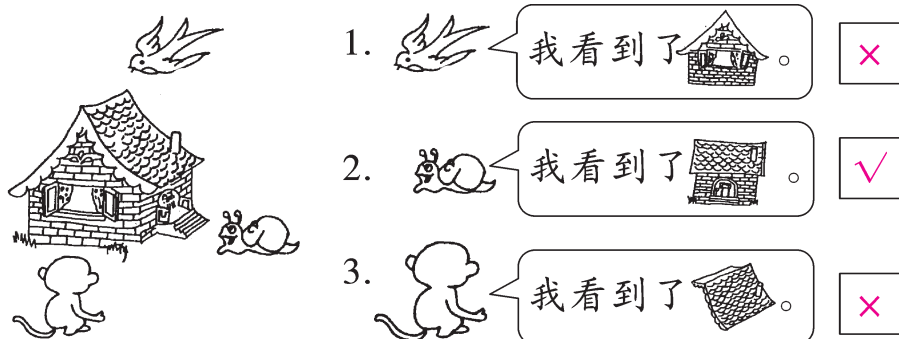
小丁：“我能看到猴子的眼睛、嘴巴和它的腿，头上戴着一朵花。”

小华：“我也看到猴子的一只耳朵、一条腿和它的尾巴。”


六、下面的照片分别是谁拍的？连一连。（8分）



七、它们的说法对吗？对的画“√”，错的画“×”。（9分）



八、请你从不同的位置观察下面的物体，并试着画一画。（9分）




【答案】



（答案不唯一）

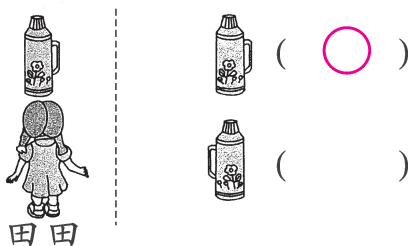
九、看图按要求画一画。（12分）

1. 下面哪一幅图是  看到的？（画“√”）






2. 下面哪一幅图是田田看到的? (画“○”)



3. 下面哪一幅图是小华看到的? (画“☆”)



十、说一说他们分别看到了什么。(12 分)



【答案】 看到了娃娃的眼睛、嘴巴。

看到了娃娃的左耳。

看到了娃娃的后背。

看到了娃娃的右耳。(答案不唯一)

十一、(趣味题)小青蛙看到的是图( ④ )。(6 分)

